





LKPD

MATEMATIKA

Luas Bangun Datar

Nama : _____

Kelas: _____



Luas Bangun Datar


Tujuan Pembelajaran

Peserta didik mampu:

1. Menghitung luas bangun datar.
2. Menyelesaikan masalah kontekstual terkait luas.
3. Menghubungkan matematika dengan budaya lokal.

Petunjuk Kerja

1. Kerjakan secara berkelompok.
2. Diskusikan jawaban bersama anggota kelompok.
3. Gunakan langkah pemecahan masalah Polya.



PERTEMUAN 2

Atap Rumah Bolon berbentuk segitiga dengan alas 14 meter dan tinggi 6 meter. Atap tersebut akan dicat seluruh permukaannya. Berapakah luas atap Rumah Bolon tersebut?



Pertanyaan:

Informasi apa saja yang diketahui dari permasalahan ?

1

Rumus apa yang akan digunakan untuk menyelesaikan masalah?

2

Hitunglah luas atap rumah bolan tersebut.

3

Periksa kembali hasil perhitunganmu, dan berikan kesimpulan.

4